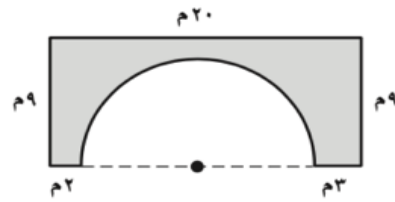
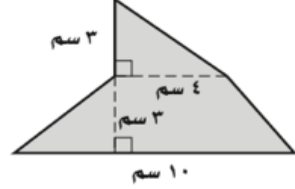
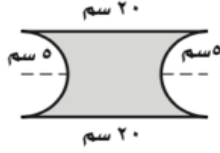
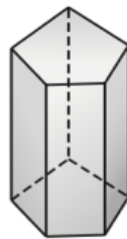


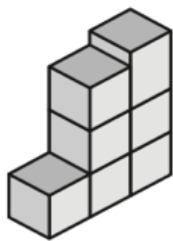
اقرأ كل سؤال بعناية، ثم اكتب إجابتك في المكان المخصص لذلك.  
أوجد مساحة كل شكل مما يأتي، مقرباً الجواب إلى أقرب جزء من عشرة (في الأسئلة



٤ التقى ٦ أصدقاء وسلم كل واحد منهم على الخمسة أصدقاء الآخرين باليد. كم سلاماً باليد تم بين الأصدقاء؟



حدد اسم المجسم المجاور، واذكر عدد أوجهه وشكلها،  
ثم عدد أحرفه ورؤوسه.



تبين الصورة رصة من الصناديق، ارسم المنظر العلوي والأمامي  
والجانبي لهذه المجموعة.