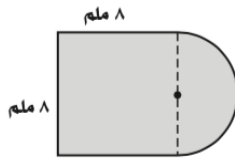


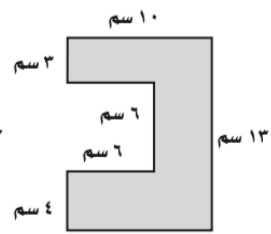
اقرأ كل سؤال بعناية، ثم اكتب رمز الإجابة الصحيحة في المكان المخصص لذلك:

أوجد مساحة كل شكل مما يأتي، مقرباً الجواب إلى أقرب عُشر، إذا تطلب الأمر ذلك (في الأسئلة ١-٣):

- (١) (أ) ٦٤ ملم<sup>٢</sup>  
 (ب) ١٦٤,٥ ملم<sup>٢</sup>  
 (٢) (ج) ١٠٦,٧ ملم<sup>٢</sup>  
 (د) ٨٩,١ ملم<sup>٢</sup>

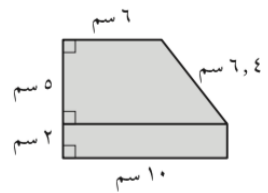


- (٢) (أ) ١٣٠ سم<sup>٢</sup>  
 (ب) ١١٤ سم<sup>٢</sup>  
 (ج) ٩٤ سم<sup>٢</sup>  
 (د) ١٢٢ سم<sup>٢</sup>



- (٣)

- (أ) ٦٠ سم<sup>٢</sup>  
 (ب) ٨٢ سم<sup>٢</sup>  
 (ج) ٨٤ سم<sup>٢</sup>



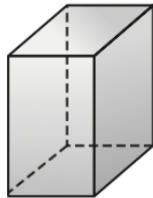
- (د) ٧١,٢ سم<sup>٢</sup>

(٤) يستطيع نجاران صنع طاولتين في يومين. كم طاولة يستطيع ٨ نجارين صنعها في ٢٠ يوماً؟

- (أ) ٣٢ (ب) ٤٠ (ج) ١٦٠ (د) ٨٠

استعمل الجسم في الشكل المجاور في الحل (في السؤالين ٥, ٦):

- (٥)



- (ج) منشور رباعي  
 (د) هرم خماسي

(٥) ما نوع الجسم؟

- (أ) هرم رباعي  
 (ب) منشور خماسي

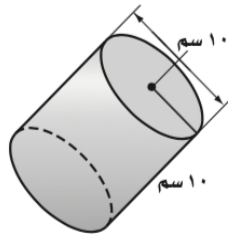
- (٦)

(٦) ما عدد أحرفه:

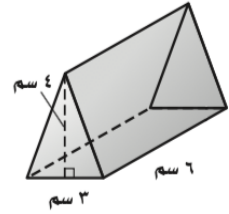
- (أ) ٦ (ب) ٨ (ج) ١٢ (د) ١٥

أوجد حجم كل مجسم مما يأتي، مقرباً الجواب إلى أقرب عُشر (في الأسئلة ٧-١١):

- (٧) (أ) ٧٨٥,٤ سم<sup>٣</sup>  
 (ب) ٢٥٠ سم<sup>٣</sup>  
 (٨) (ج) ٢٦١,٨ سم<sup>٣</sup>  
 (د) ٣١٤,٢ سم<sup>٣</sup>



- (٨) (أ) ٢٤ سم<sup>٣</sup>  
 (ب) ٣٦ سم<sup>٣</sup>  
 (ج) ١٢ سم<sup>٣</sup>  
 (د) ٤٨ سم<sup>٣</sup>



- (٩)

- (أ) ٦,١ ملم<sup>٣</sup>  
 (ب) ٦,٩ ملم<sup>٣</sup>  
 (ج) ١,٣ ملم<sup>٣</sup>  
 (د) ٠,٤ ملم<sup>٣</sup>

