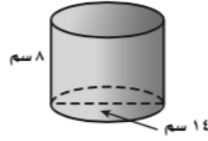


الاختبار التراكمي

(تتمة ١)

(٧) أ ب ج د

٧ أوجد المساحة الكلية لسطح الأسطوانة في الشكل المجاور، مقرباً الجواب إلى أقرب جزء من عشرة، مستعملاً $\pi \approx 3,14$. (الدرس ٦-٦)

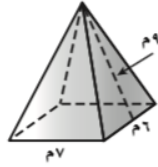


ج) $1934,3 \text{ سم}^2$
د) $659,4 \text{ سم}^2$

أ) $703,4 \text{ سم}^2$
ب) $351,7 \text{ سم}^2$

(٨) أ ب ج د

٨ أوجد المساحة الكلية لسطح الهرم في الشكل المجاور. (الدرس ٦-٧)

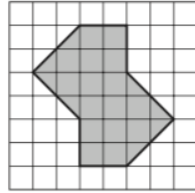


ج) 150 م^2
د) 276 م^2

أ) 117 م^2
ب) 120 م^2

(٩) أ ب ج د

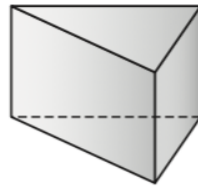
٩ ما مساحة الجزء المظلل في الشكل المجاور؟ (الدرس ٦-١)



ج) ٢٠ وحدة مربعة
د) ٢٨ وحدة مربعة

أ) ١٦ وحدة مربعة
ب) ١٨ وحدة مربعة

(١٠) أ ب ج د



١٠ حدّد اسم المجسم في الشكل المجاور. (الدرس ٦-٣)

ج) هرم رباعي
د) هرم ثلاثي

أ) منشور رباعي
ب) منشور ثلاثي