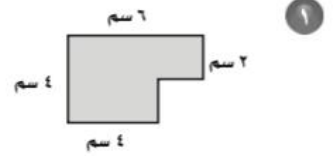
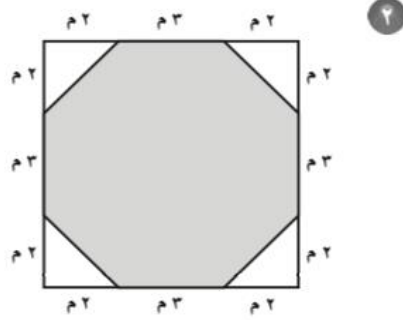


## الاختبار القصير (١) : الدرسان (٦-١، ٦-٢)

اقرأ كل سؤال بعناية، ثم اكتب إجابتك في المكان المخصص لذلك:  
أوجد مساحة كل شكل من الشكلين المظللين (في السؤالين ١، ٢)

- (١) \_\_\_\_\_  
(٢) \_\_\_\_\_

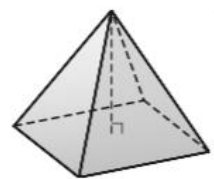
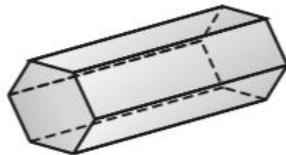


- ٣ قطعة أرض مستطيلة الشكل بعدها ٤٨ م، ٣٢ م. إذا زرع عبدالرحمن ما نسبته ٩، ١٨٪ منها، (٣) فما مساحة الجزء الذي تمت زراعته تقريباً؟ (استعمل خطة حل مسألة أبسط)

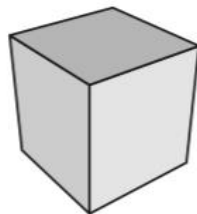
## الاختبار القصير (٢) : الدرسان (٦-٣، ٦-٤)

اقرأ كل سؤال بعناية، ثم اكتب إجابتك في المكان المخصص لذلك:  
حدّد اسم كل مجسم مما يأتي، واذكر عدد أوجهه وشكلها، ثم عدد أحرفه ورؤوسه (في السؤالين ١، ٢):

- (١) \_\_\_\_\_  
(٢) \_\_\_\_\_



- (٣) \_\_\_\_\_



- ٣ ارسم كلاً من المنظر العلوي، والجانبية والأمامي للصندوق المجاور.

أوجد حجم كل مجسم، مقرباً الجواب إلى أقرب جزء من عشرة.  
مستعملاً ط  $\approx 3,14$  (في السؤالين ٤، ٥):

- (٤) \_\_\_\_\_  
(٥) \_\_\_\_\_

