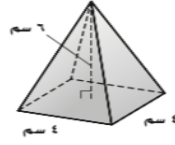


## الاختبار القصير (٣): الدرسان (٥-٦، ٦-٦)

اقرأ كل سؤال بعناية، ثم اكتب إجابتك في المكان المخصص لذلك:  
أوجد حجم كل مجسم، مقرباً الجواب إلى أقرب جزء من عشرة، إذا تطلب الأمر ذلك، مستعملاً  
ط  $\approx 3,14$  (في السؤالين ٢،١):

- \_\_\_\_\_ (١)  
\_\_\_\_\_ (٢)



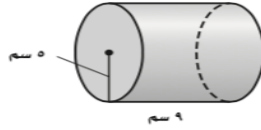
٢



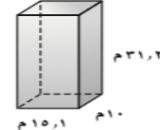
١

أوجد المساحة الكلية لسطح كل مجسم إلى أقرب جزء من عشرة، إذا تطلب الأمر ذلك،  
مستعملاً ط  $\approx 3,14$  (في الأسئلة ٣-٥):

- \_\_\_\_\_ (٣)  
\_\_\_\_\_ (٤)

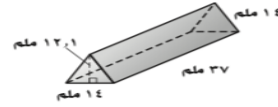


٤



٣

- \_\_\_\_\_ (٥)

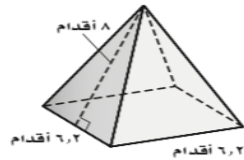


٥

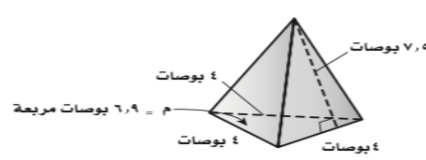
## الاختبار القصير (٤): الدرس (٦-٧)

اقرأ كل سؤال بعناية، ثم اكتب إجابتك في المكان المخصص لذلك:  
أوجد المساحة الكلية لسطح كل مجسم منتظم مما يأتي، مقرباً الجواب إلى أقرب جزء  
من عشرة، إذا تطلب الأمر ذلك (في السؤالين ٢،١):

- \_\_\_\_\_ (١)  
\_\_\_\_\_ (٢)



٢



١