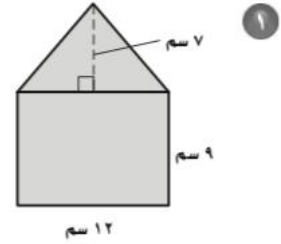


اختبار الفصل: النموذج (١٢)

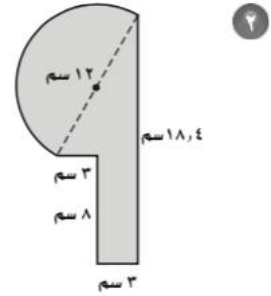
أوجد مساحة كل شكل مما يأتي، مقرباً إلى أقرب عُشر، إذا تطلب الأمر ذلك (في الأسئلة ١-٣)

١) _____



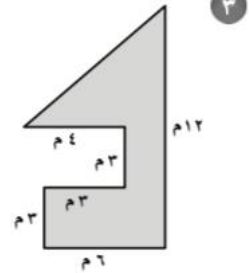
- (أ) ١٠٨ سم^٢ (ب) ١٩٢ سم^٢ (ج) ١٥٠ سم^٢ (د) ١٣٩,٥ سم^٢

٢) _____



- (أ) ١١١,٧ سم^٢ (ب) ١٦٨,٣ سم^٢ (ج) ١٤٢,٩ سم^٢ (د) ٩٦,١ سم^٢

٣) _____



- (أ) ٣٣ م^٢ (ب) ٤٥ م^٢ (ج) ٤٨ م^٢ (د) ٦٩ م^٢

٤) _____

٤ إذا كانت البيوت على شارع ما مرقمة بالأرقام ١ إلى ١٥٠، فكم بيتاً سيكون الرقم ٨ ضمن أرقامه؟

- (أ) ٢٤ (ب) ٤٢ (ج) ٥٠ (د) ٤٨

٥) _____



٥ ما نوع المجسم؟

- (أ) منشور ثلاثي (ب) هرم ثلاثي (ج) هرم رباعي (د) منشور رباعي

٦) _____

٦ ما عدد الأوجه؟

- (أ) ٥ (ب) ٤ (ج) ٣ (د) ٢