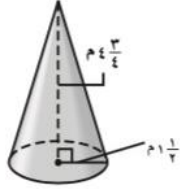


الاختبار التراكمي

(تتمة ١)

(٦) أ ب ج د



٦ أوجد حجم المجسم المجاور مقربًا الجواب إلى أقرب جزء من عشرة. (الدرس ٦-٥)

ج) ١٦,٨ م^٣

أ) ١١,٢ م^٣

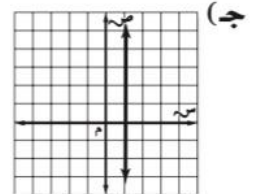
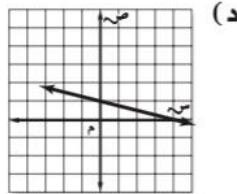
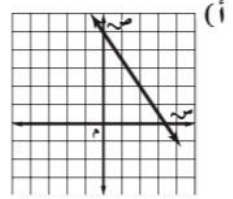
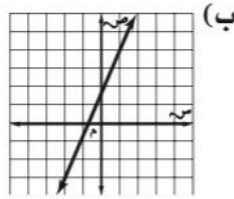
د) ٢٢,٤ م^٣

ب) ١١,٨ م^٣

(٧) أ ب ج د

٧ أي مستقيم مما يأتي يُعد أفضل تمثيل للأزواج المرتبة (س، ص) الموضحة في الجدول الآتي؟ (الدرس ٨-٣)

١	٠	١-	٢-	س
٤	١	٢-	٥-	ص



(٨) أ ب ج د

٨ ميل المستقيم المار بالنقطة (٥، ٠)، (٧، ٣) هو: (الدرس ٨-٤)

د) $\frac{3}{2}$

ج) $\frac{2}{3}$

ب) $\frac{2}{3}$

أ) $\frac{3}{2}$