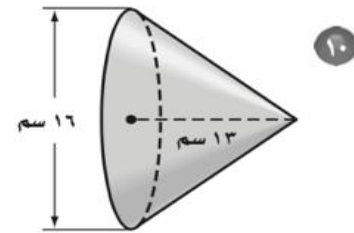
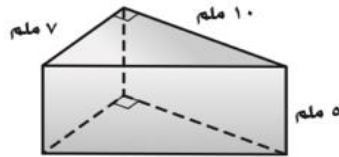
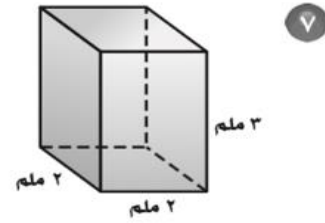
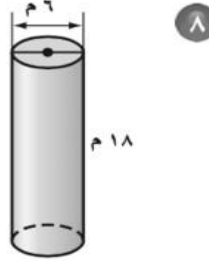
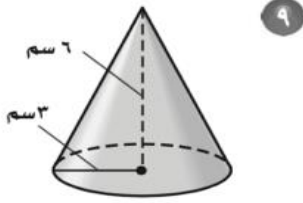


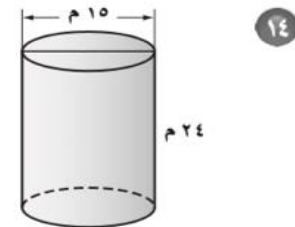
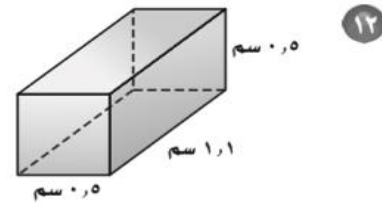
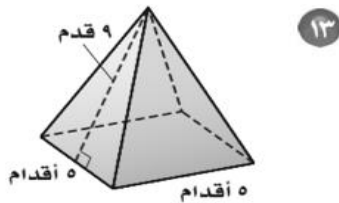
اختبار الفصل: النموذج (ب ٢)

٦

أوجد حجم كل مجسم مما يأتي، مقربًا الجواب إلى أقرب جزء من عشرة (في الأسئلة



أوجد المساحة الكلية لسطح كل مجسم مما يأتي، مقربًا الجواب إلى أقرب جزء من عشرة (في الأسئلة ١٢-١٤) :



١٥ حرفة قامت سعاد بنحت أسطوانة خشبية صغيرة، قطرها ٢ سم، وارتفاعها ٨ سم، أوجد المساحة الكلية لسطح الأسطوانة.

سؤال إضافي شبه منحرف مساحته ٣١ قدمًا مربعة، ومجموع طولي قاعدتيه ٣١ قدمًا. أوجد ارتفاعه.