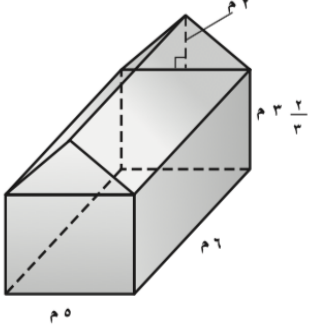
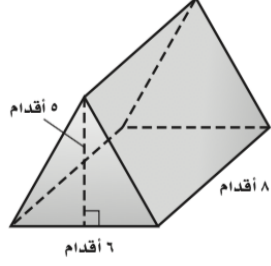
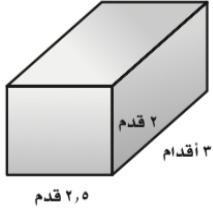
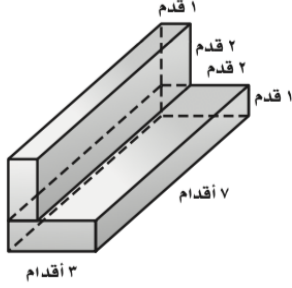


تدريبات حل المسألة

حجم المنشور والأسطوانة

<p>٢ تصميم: صمّم البيت الزجاجي بالأطوال المبينة أدناه. فما الحجم الداخلي للبيت؟</p> 	<p>١ تخييم: تُستعمل الخيمة المبيّنة أدناه في الرحلات، أوجد حجم الخيمة.</p> 
<p>٤ تبرعات: يستعمل الصندوق في الشكل أدناه لإرسال تبرعات للمناطق الفقيرة. فكم قدمًا مكعبة من التبرعات يسع هذا الصندوق؟</p> 	<p>٣ أجبان: بيّن الشكل أدناه نموذجًا لحفظ الجبن. أوجد حجمه.</p> 
<p>٦ خيول: إذا كان الحوض في السؤال الخامس ممتلئًا ويتناقص الماء فيه بمعدل ٦, ٥ أقدام مكعبة في اليوم، فبعد كم يوم سيفرغ الحوض من الماء مقربًا إلى أقرب جزء من عشرة؟</p>	<p>٥ خيول: يستعمل الحوض المبيّن في الشكل أدناه لسقاية الخيول. وهو عبارة عن نصف أسطوانة، فكم قدمًا مكعبًا من الماء يسع الحوض مقربًا إلى أقرب جزء من عشرة؟</p> 