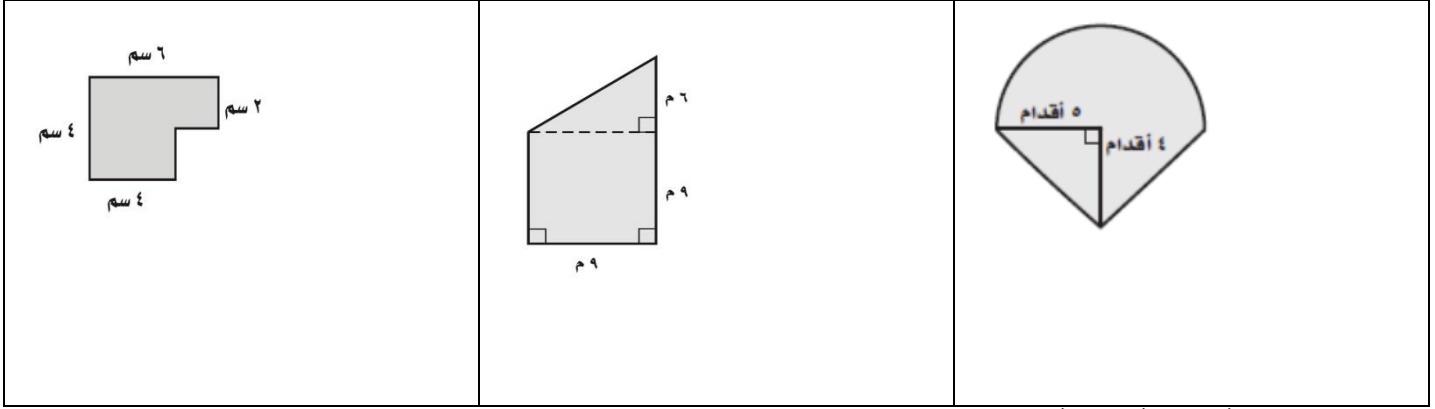
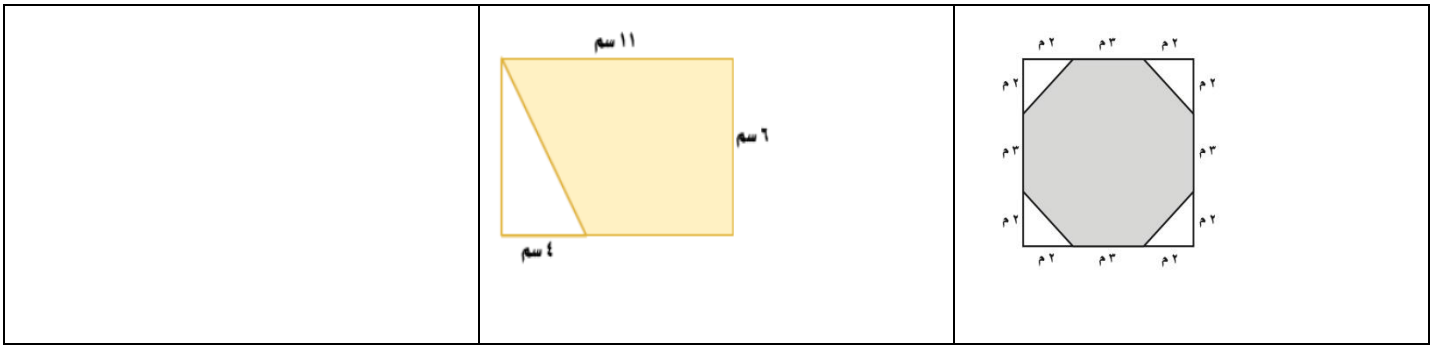


مراجعه منهج الصف الثاني متوسط (١) (الفصل السادس)

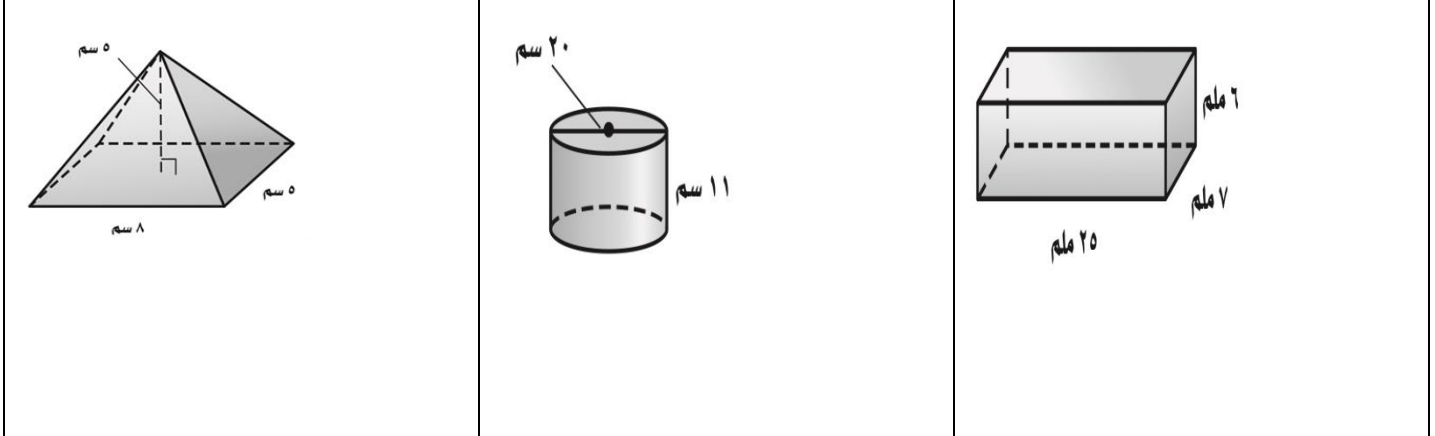
س١ / اوجد مساحة الشكل التالي ، مقربا الجواب الى اقرب جزء من عشرة اذا لزم ذلك .



س٢ / جدي مساحة المنطقة المظللة :



س٣ / جدي حجم المجسمات التالية :



س٥ / اختاري الاجابة الصحيحة :



(ج) هرم رباعي
(د) منشور رباعي

١ ما نوع المجسم؟

(أ) منشور ثلاثي

(ب) هرم ثلاثي

٢ ما عدد الأوجه؟

(أ) ٥

(ب) ٤

(ج) ٣

(د) ٢

س٦ / قامت سعاد بنحت اسطوانة خشبية صغيرة قطرها ٢ سم ، وارتفاعها ٨ سم ، اوجدي المساحة الكلية لسطح الاسطوانة .