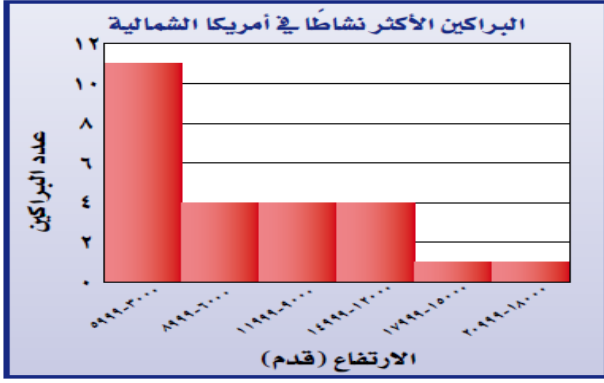


مراجعة الفصل الدراسي الثاني للصف الثاني المتوسط (٥) :

س١/



براكين: استعن بالمدرج التكراري

المجاور في الإجابة عن الأسئلة ٢ - ٤ :

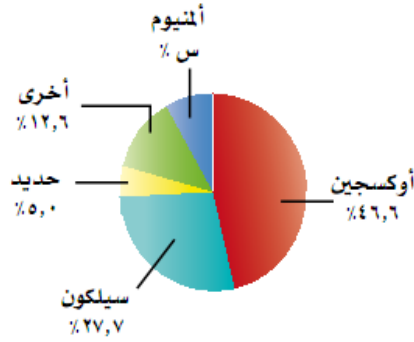
٢) ما نسبة البراكين على ارتفاع ٨٩٩٩ قدمًا فأقل؟

٣) ما احتمال أن يكون ارتفاع البركان

١٥٠٠٠ قدم على الأقل؟ فسّر إجابتك.

٤) ما ارتفاع أعلى هذه البراكين؟

العناصر على سطح الأرض



س٢/ جدي النسبة المئوية للالمنيوم

جدي زاوية قطاع الاكسجين

نسبة الاكسجين تقريبا

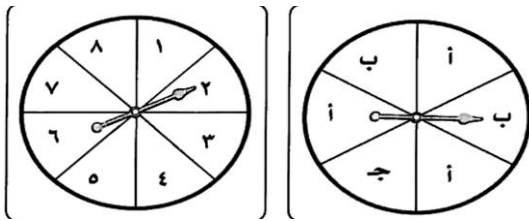
س٣/ من خلال الجدول التالي :

التكرار	النتائج	التكرار	النتائج
٦	ش ش ش	٣	ك ك ك
٥	ش ش ك	٦	ك ك ش
١٠	ش ك ش	٥	ك ش ك
٥	ش ك ك	١٠	ك ش ش

عدد نواتج القاء قطعة نقد ورمي مكعب ارقام

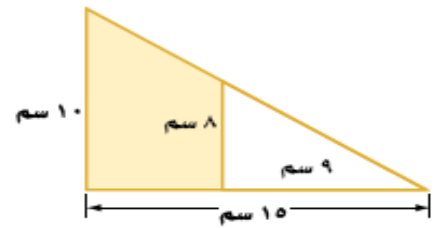
مالاحتمال النظري للحصول على شعارين فقط

مالاحتمال التجريبي للحصول على شعارين فقط



س٤/ عدد نواتج مؤشر القرص المجاورين

س٥/ جدي مساحة المنطقة المظللة



س٦/ استعمل الشكل المجاور لتحديد مايلي :

(١) المستوى الموازي للمستوى هـ و ز هو

(٢) النقطة التي تشكل قطر مع النقطة د هي النقطة

